

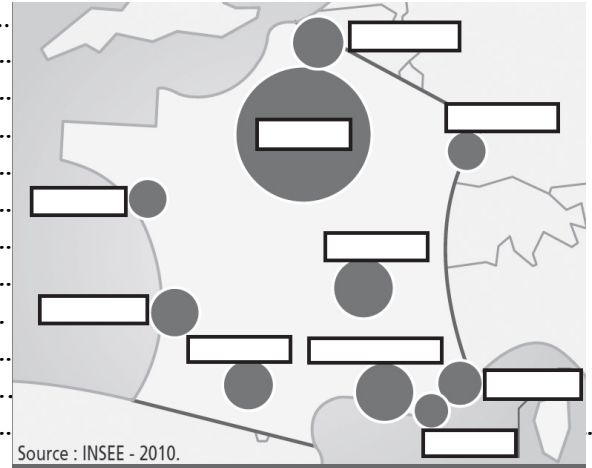
Définitions et repères :

aire urbaine :
.....
Déplacement pendulaire :
.....
Littoralisation :
.....
Périurbanisation :
.....

Questions de cours

Qu'est ce qu'une aire urbaine ? Montrer que les aires urbaines sont en expansion et indiquez les conséquences ?

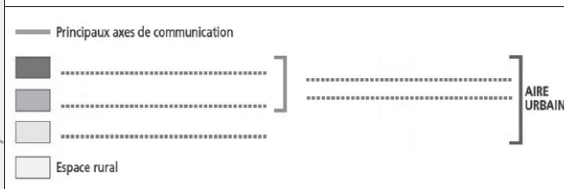
.....
.....
.....
.....
.....
.....
.....
.....
.....
.....



Les 10 premières aires urbaines en France



2. Complétez la légende du schéma ci-contre à l'aide des expressions suivantes : couronne périurbaine – banlieues – pôle urbain – ville centre.



Quelles transformations connaît le monde rural ?

.....
.....
.....
.....
.....
.....

Comment est répartie la population française sur le territoire ?

.....
.....
.....
.....
.....
.....
.....
.....
.....

Quelles sont les principales dynamiques spatiales ?

.....

.....

.....

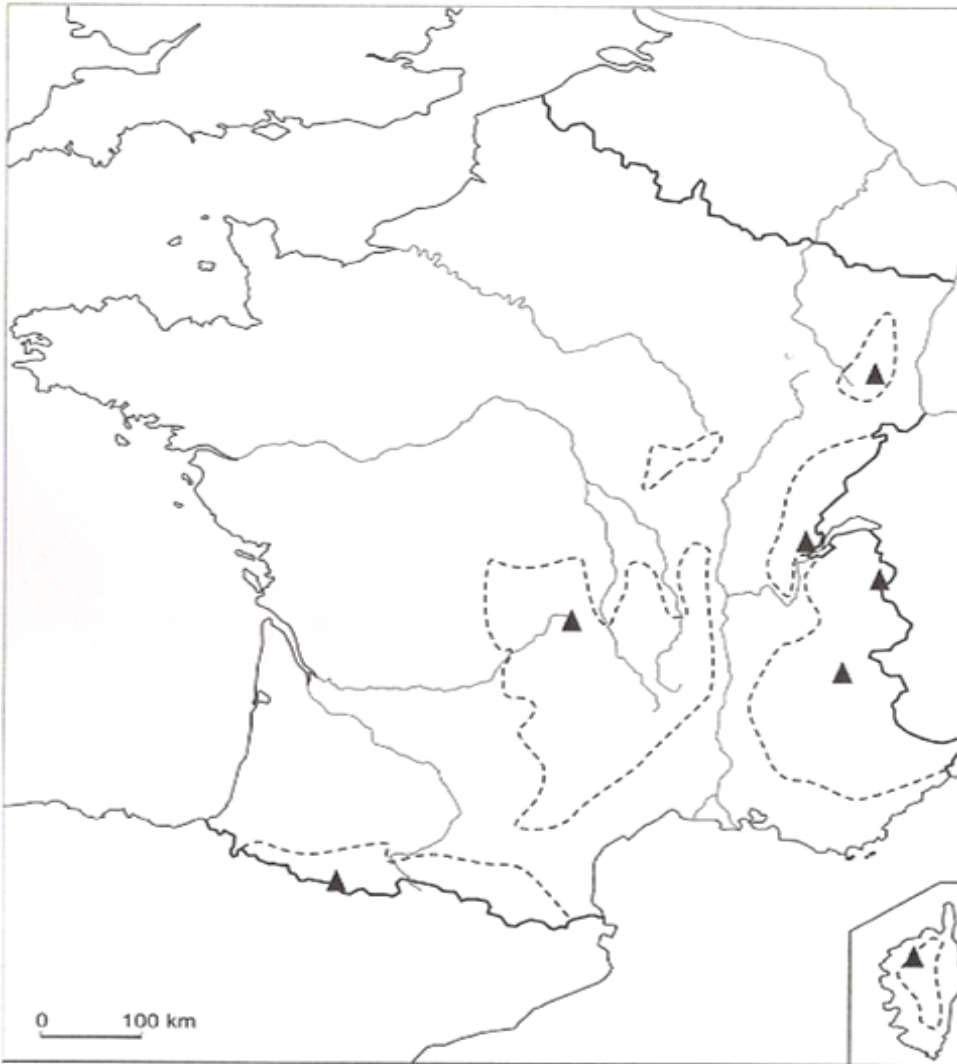
.....

.....

.....

.....

.....



Consignes générales : respecter les normes de cartographie et soigner votre écriture.

- En bleu nommer l'océan, les mers, les fleuves
- En vert nommer les massifs montagneux
- En rouge les sommets

Connaissances	<u>Maîtrise du chapitre :</u>	<input type="checkbox"/>
Connaissances	<u>Repères et cours précédents</u>	<input type="checkbox"/>
Capacités	<u>Autonomie et travail</u>	<input type="checkbox"/>
Capacités	<u>Expression écrite</u>	<input type="checkbox"/>
<u>Nom:</u>	<u>Prénom:</u>	Refaire l'évaluation <input type="checkbox"/>
<u>Remarques</u>		